

1	Miejsce egzaminu	
2*	Numer kandydata	
3*	Kierunek studiów	
4	Liczba uzyskanych punktów	/100

*** wypełnia kandydat**

TEST Z GEOGRAFII

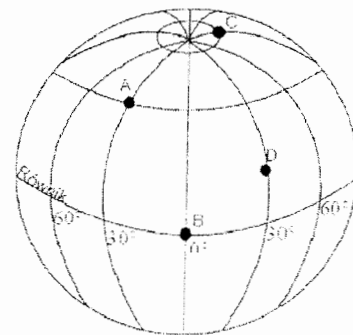
Test rekrutacyjny dla kandydatów na studia w Polsce

WERSJA III - A

1. Które przyporządkowanie jest prawidłowe?

	Kontynent	Pasma górskie	Najwyższy szczyt
I	Europa	Alpy	Mont Blanc
II	Azja	Himalaje	Mont Everest
III	Ameryka Południowa	Andy	Aconcagua
IV	Antarktyda	Góry Ellswortha	Masyw Vinsona

- A) Tylko **I**. B) Tylko **II**. C) Tylko **I i II**. D) Wszystkie.
2. Która odpowiedź przedstawia prawidłowe uszeregowanie skal od największej do najmniejszej?
- A) 1:250 000, 1 cm – 0,5 km, 1: 1 000 000, 1 cm – 25 m.
 B) 1 cm – 25 m, 1 cm – 0,5 km, 1:250 000, 1: 1 000 000.
 C) 1: 1 000 000, 1:250 000, 1 cm – 0,5 km, 1 cm – 25 m.
 D) 1 cm – 25 m, 1:250 000, 1 000 000, 1 cm – 0,5 km.
3. Na rysunku przedstawiono położenie czterech punktów na powierzchni kuli ziemskiej. Punkt **B** podczas ruchu obrotowego Ziemi porusza się z większą prędkością liniową niż pozostałe punkty, ponieważ
- A) znajduje się na południku 0° .
 B) jest położony na najdłuższym równoleżniku.
 C) jest położony na wschód od punktu A.
 D) znajduje się najbliżej bieguna południowego.



4. Na mapie w skali 1: 50 000 narysowano kwadrat o boku 5 cm. Jaką powierzchnię zajmuje ten kwadrat na powierzchni ziemi?
- A) 12,5 ha. B) 1,25 m². C) 6, 25 km². D) 2,5 km².
5. Pierwszego pomiaru i obliczenia obwodu Ziemi dokonał
- A) Kopernik. B) Arystoteles. C) Pitagoras. D) Eratostenes.
6. Różnica długości geograficznej między dwoma miejscowościami na Ziemi wynosi 124° . Ile wynosi różnica czasu słonecznego między tymi miejscowościami?
- A) 124 minuty. B) 2 godziny. C) 31 minut. D) 8 godz. 16 min.
7. Które zestawienie przedstawia prawidłową kolejność warstw atmosfery od powierzchni Ziemi?
- A) Troposfera, stratosfera, mezosfera, termosfera.
 B) Biosfera, hydrosfera, litosfera, atmosfera.
 C) Stratosfera, jonosfera, termosfera, egzosfera.
 D) Litosfera, troposfera, stratosfera, ozonosfera.

8. Tabela przedstawia średnie miesięczne temperatury powietrza i sumy opadów typowe dla jednej ze stref klimatycznych na Ziemi. Która to strefa?

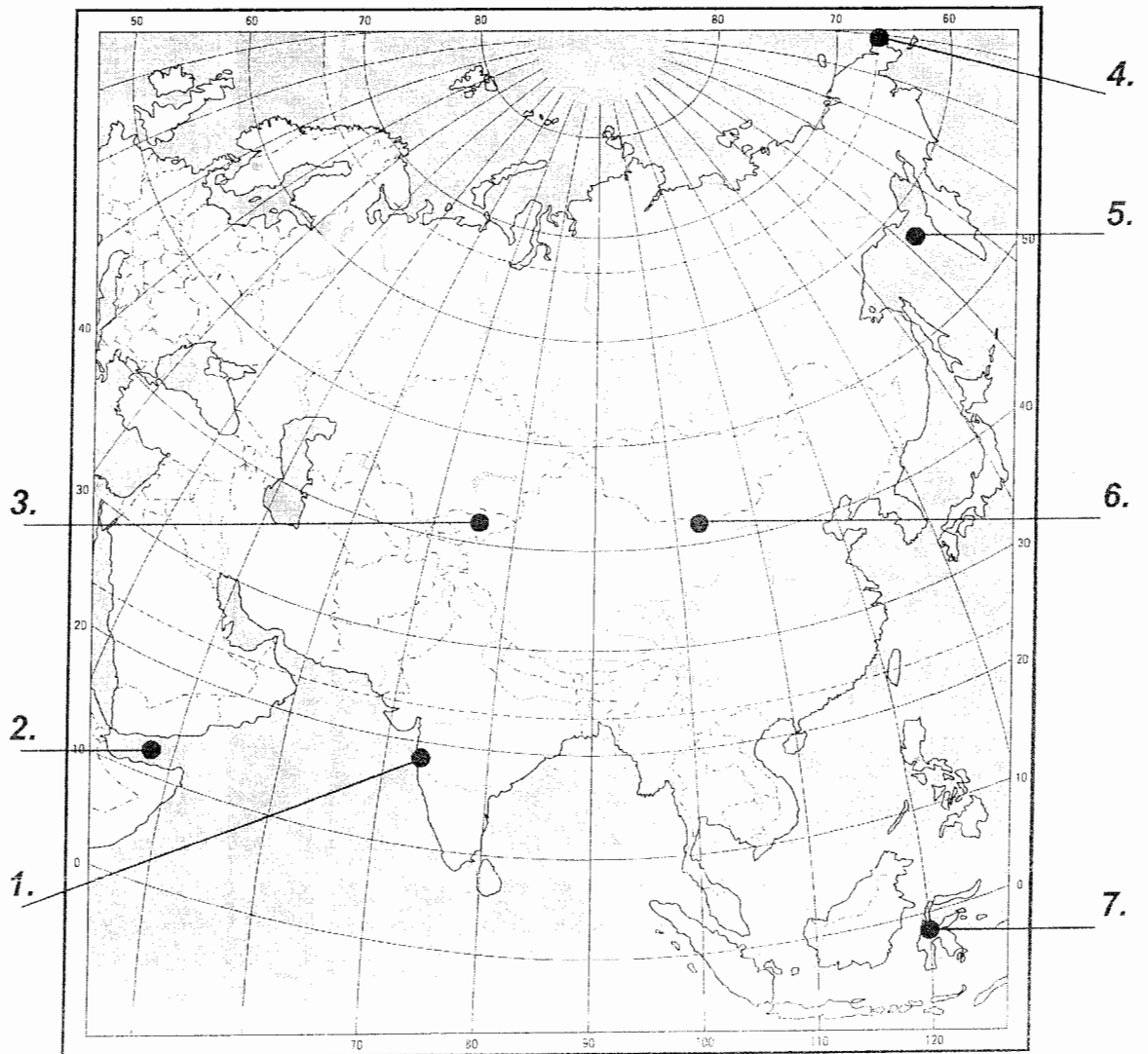
Miesiąc	I	II	III	IV	V	VI	VII	VIII	IX	X	XI	XII
Temperatura [°C]	8	9	11	16	20	22	23	23	21	20	15	10
Opady [mm]	120	110	90	20	5	0	0	0	1	10	60	80

- A) Równikowa. B) Zwrotnikowa. C) Podzwrotnikowa. D) Umiarkowana.

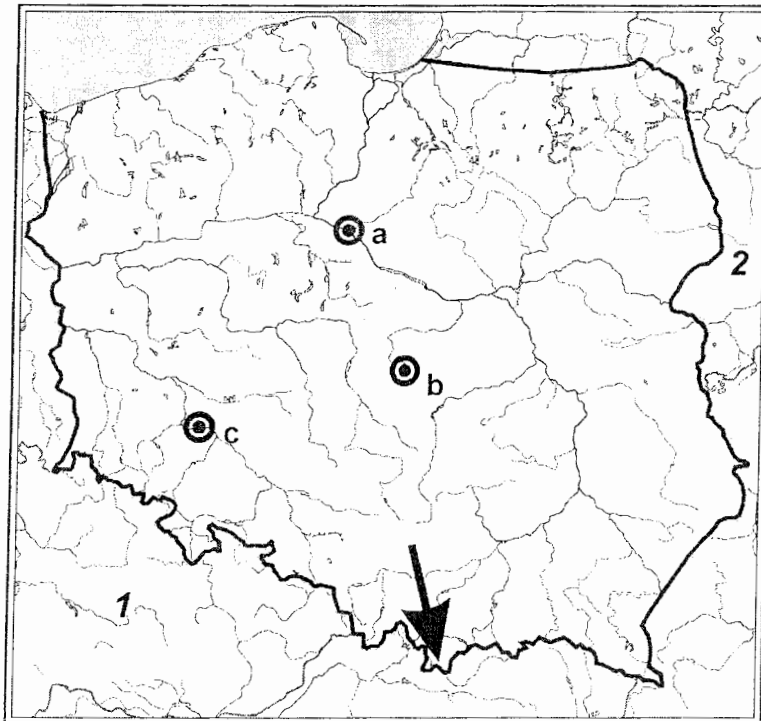
9. Które przyporządkowanie prawidłowo przedstawia najdłuższą rzekę i największe jezioro na kontynencie?

	Kontynent	Rzeka	Jezioro
I	Europa	Dunaj	Ładoga
II	Azja	Jangcy	Bajkał
III	Ameryka Północna	Missisipi	Górne (Lake Superior)
IV	Afryka	Nil	Wiktorii (Ukerewe)

- A) Tylko I. B) Tylko II. C) III i IV. D) Żadne.
10. Obszary sejsmiczne na powierzchni Ziemi występują
- A) w Azji Wschodniej.
 B) w Europie Północnej.
 C) na wschodnim wybrzeżu Ameryki Północnej.
 D) na wschodnim wybrzeżu Australii.



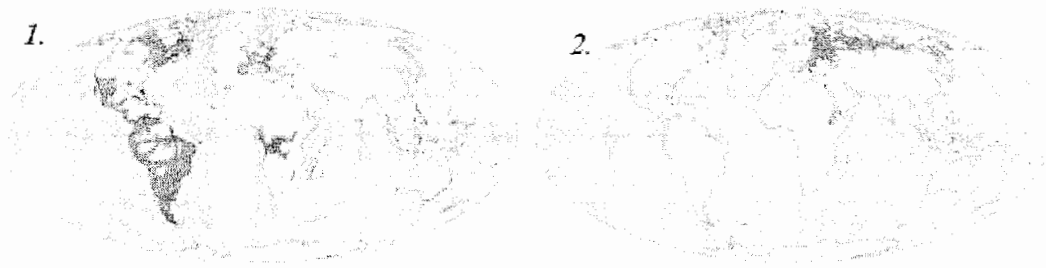
11. Cyfrą **1** na mapie oznaczono miasto
 A) Madras. B) Karaczi. C) Bombaj. D) Delhi.
12. Cyfra **2** na mapie oznacza Zatokę
 A) Perską. B) Adeńską. C) Ormuz. D) Bengalską.
13. Cyfra **3** na mapie to
 A) Turkmenistan. B) Kirgistan. C) Afganistan. D) Uzbekistan.
14. Cyfrą **4** na mapie oznaczono Cieśninę
 A) Beringa. B) Barentsa. C) Koreańską. D) Malakka.
15. Cyfra **5** na mapie to
 A) Morze Japońskie. B) Morze Chińskie. C) Morze Ochockie. D) Morze Białe.
16. Cyfra **6** na mapie to
 A) Himalaje. B) Nizina Chińska. C) Altaj. D) Pustynia Gobi.
17. Cyfrą **7** na mapie oznaczono wyspę
 A) Tajwan. B) Hainan. C) Borneo. D) Celebes.



18. Na mapie Polski literami **a**, **b**, **c** zaznaczono duże miasta. Który zestaw zawiera prawidłowe nazwy zaznaczonych na mapie miast?
 A) **a** – Gdańsk, **b** – Warszawa, **c** – Poznań. B) **a** – Gdańsk, **b** – Łódź, **c** – Kraków.
 C) **a** – Toruń, **b** – Łódź, **c** – Wrocław. D) **a** – Toruń, **b** – Łódź, **c** – Katowice.
19. Jak nazywają się polskie góry zaznaczone na mapie strzałką?
 A) Tatry. B) Sudety. C) Bieszczady. D) Świętokrzyskie.

20. Który zestaw właściwie opisuje kraje – sąsiadów Polski zaznaczonych na mapie cyframi?
 A) 1 – Niemcy, 2 – Czechy. B) 1 – Czechy, 2 – Słowacja.
 C) 1 – Słowacja, 2 – Ukraina. D) 1 – Czechy, 2 – Białoruś.
21. I. Współcześnie obserwujemy wzrost liczby ludności w krajach biednych.
 II. Zmiany liczby ludności w kraju są rezultatem zmian przyrostu naturalnego oraz migracji.
 III. Przeważająca część ludności świata zamieszkuje południowo-wschodnią Azję i Europę Północną.
 IV. W rozmieszczeniu ludności na świecie coraz ważniejszą rolę odgrywają warunki naturalne.
 Które zdanie jest prawdziwe?
 A) Tylko I. B) I i II. C) I i III.
 D) Tylko III. E) Tylko IV.
22. Przyczyną dużej gęstości zaludnienia na terenach wyspy Jawy, doliny Nilu i Niziny La Platy jest
 A) wydobywanie złota.
 B) żyzna ziemia.
 C) migracja ludności z innych krajów.
 D) występowanie opadów w ciągu całego roku.
 E) położenie w klimacie umiarkowanym.
23. Polski demograf Jerzy Holzer opracował fazy rozwoju demograficznego społeczeństw. Poniżej przedstawiono najważniejsze cechy poszczególnych faz:
 a – niska liczba urodzeń i niska liczba zgonów,
 b – spadek liczby urodzeń i spadek liczby zgonów,
 c – wysoka liczba urodzeń i wysoka liczba zgonów,
 d – wysoka liczba urodzeń i spadek liczby zgonów,
 e – liczba zgonów jest wyższa od liczby urodzeń.
 Które zestawienie prezentuje poprawną kolejność faz rozwoju demograficznego?
 A) a, b, c, d, e. B) e, d, c, b, a. C) c, d, b, a, e.
 D) c, b, a, e, d. E) Brak poprawnej odpowiedzi.
24. W której grupie kraje uporządkowane są według malejącego wskaźnika przyrostu naturalnego?
 A) Polska, Rosja, Ukraina, Indonezja. B) Niemcy, Rosja, Chiny, Indie.
 C) Kenia, USA, Francja, Polska. D) USA, Polska, Czechy, Nigeria.
 E) Somalia, Chiny, Indie, Rosja.
25. I. Migracja to proces związany z przemieszczaniem się ludności.
 II. Repatriacja to powrót do kraju ojczystego osób, które wskutek niezależnych przyczyn znalazły się poza jego granicami.
 III. Krajami emigracyjnymi są między innymi Polska, Stany Zjednoczone i Wielka Brytania.
 IV. Pozytywną stroną emigracji jest napływ dobrze wykształconych, młodych pracowników.
 Które zdanie jest fałszywe?
 A) I i II. B) Tylko II. C) III i IV.
 D) Tylko IV. E) Wszystkie.

26. Miarą urbanizacji (współczynnikiem urbanizacji) jest
 A) liczba miast w kraju. B) wielkość miast.
 C) liczba ludności miast. D) liczba ludności pracującej w usługach.
 E) udział ludności miejskiej w ogólnej liczbie ludności.
27. **I.** Miasta cechuje bardzo dynamiczny wzrost liczby ludności.
II. Miasta leżą na tym samym kontynencie.
III. Wokół centrów miast rozbudowują się ekskluzywne dzielnice willowe.
IV. Miasta leżą nad oceanem lub w jego bezpośrednim sąsiedztwie.
 Które zdanie opisuje wspólną cechę Bombaju, Sao Paulo, Kalkuty i Seulu?
 A) Tylko **II**. B) **II i III**. C) **I i IV**.
 D) **III i IV**. E) Wszystkie.
28. Zespół miejski, który powstał na skutek łączenia się podobnych pod względem liczby mieszkańców osiedli górniczych i fabrycznych w wyniku gwałtownego rozwoju przemysłu to
 A) industrializacja. B) urbanizacja. C) konurbacja.
 D) aglomeracja. E) redemarkacja.
29. **I.** Najważniejszą funkcją miastotwórczą w XIX wieku była funkcja przemysłowa.
II. Obecnie najszybsze tempo urbanizacji występuje w krajach wysoko rozwiniętych.
III. Nowy Jork, Rotterdam, Szanghaj największy rozwój zawdzięczają funkcji portowej.
IV. Brazylia i Argentyna cechują się wysokim współczynnikiem urbanizacji.
 Które zdanie jest **falszywe**?
 A) Tylko **II**. B) **I, II i III**. C) **II i III**.
 D) Tylko **IV**. E) Wszystkie.
30. Mapy przedstawiają obszary zamieszkiwane głównie przez wyznawców jednej religii.



- Które zestawienie prawidłowo opisuje zaznaczone religie?
 A) **1** – prawosławie, **2** – protestantyzm. B) **1** – protestantyzm, **2** – prawosławie.
 C) **1** – katolicyzm, **2** – prawosławie. D) **1** – judaizm, **2** – katolicyzm.
 E) **1** – hinduizm, **2** – islam.
31. „Tylko 13% obszaru państwa to ziemie nadające się pod uprawę. Warunki klimatyczne umożliwiają uprawę niemal wszystkich typów roślinności – od śródziemnomorskiej po tropikalną. Kraj ten jest w pełni samowystarczalny pod względem produkcji żywności. Nadwyżki towarów są eksportowane (wina, cukier, kukurydza, owoce cytrusowe). Dobrze rozwinięta jest hodowla owiec, bydła, trzody chlewnej.”
 Którego kraju dotyczy opis?
 A) Polski. B) Rosji. C) Chile.
 D) Egiptu. E) Republiki Południowej Afryki.

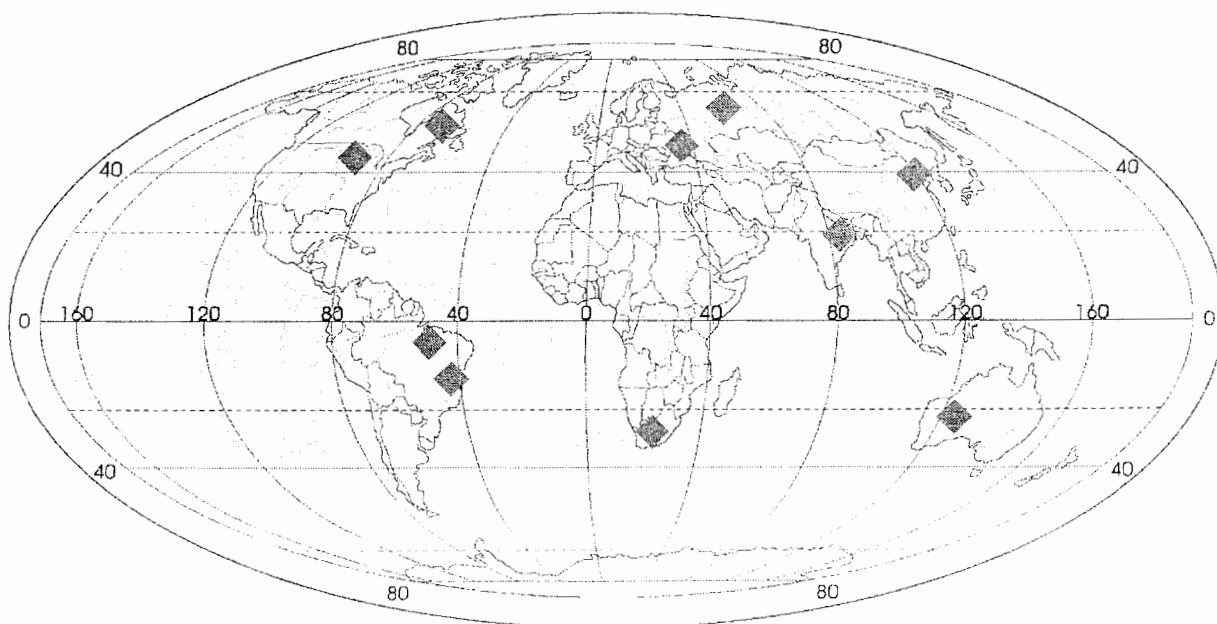
32. Które zestawienie jest prawidłowe?

- | | | |
|---|-------------------------|--------------------|
| a - Stanowi podstawowy rodzaj energii w takich krajach jak Polska, Chiny, RPA, Australia. | A - energia wiatrowa | |
| b - Efektywność tego źródła jest bardzo wysoka, jednakże koszty budowy elektrowni należą do najwyższych na świecie. Liderem produkcji energii jest Francja. | B - energia cieplna | |
| c - Stanowi podstawowe źródło energii w Norwegii. | C - energia atomowa | |
| d - Wykorzystywane jest w wielu miejscach na Ziemi, szczególnie na obszarach aktywnych wulkanicznie – na przykład na Islandii. | D - energia geotermalna | |
| | E - energia wodna | |
| A) aA, bC, cD, dB. | B) aB, bC, cE, dD. | C) aE, bB, cC, dA. |
| D) aC, bB, cC, dA. | E) aC, Ba, cE, dD. | |

33. Które zestawienie zawiera tylko nieodnawialne źródła energii?

- A) Węgiel kamienny, drewno, torf, ropa naftowa.
 B) Biomasa, gaz ziemny, uran, energia wiatrowa.
 C) Woda geotermalna, woda rzeczna, pływy morskie, uran.
 D) Energia wiatrowa, energia słoneczna, energia wodna, energia geotermalna.
 E) Węgiel kamienny, węgiel brunatny, gaz ziemny, ropa naftowa.

34. Wydobycie którego ważnego surowca mineralnego zaprezentowano na mapie?



- A) Ropy naftowej.
 B) Węgla kamiennego.
 C) Gazu ziemnego.
 D) Żelaza.
 E) Złota.

35. Które zestawienie zawiera tylko okręgi przemysłowe surowcowe?

- A) Doniecki, Nowojorski, Ruhry, Łódzki.
- B) Paryski, Londyński, Damodar, Moskiewski.
- C) Minas-Gerais, Uralski, Serra Dos Carajas, Fushun-Anshan.
- D) Moskiewski, Damodar, Johannesburg, Koźniecki.
- E) Damodar, Fushun-Anshan, Tokijski, Kuźniecki.

36. Które zestawienie poprawnie przedstawia mocarstwo kolonialne i jego dawne posiadłości?

	Kraj	Posiadłości kolonialne
A)	Portugalia	Angola, Mozambik
B)	Francja	Nigeria, Kanada
C)	Hiszpania	Meksyk, Brazylia
D)	Włochy	Libia, Algieria
E)	USA	Australia, Nowa Zelandia

37. Wspólną cechą państw – Szwajcarii, Norwegii, Japonii i Luksemburga jest

- A) duże wydobywanie surowców mineralnych.
- B) stały udział w pracach Rady Bezpieczeństwa ONZ.
- C) wysoki produkt krajowy brutto na 1 mieszkańca.
- D) dominacja energetyki atomowej w produkcji energii.
- E) wysoki udział zatrudnionych w rolnictwie.

38. Które państwa należą do Rady Bezpieczeństwa ONZ jako stali członkowie?

- A) USA, Wielka Brytania, Francja, Japonia, Niemcy.
- B) Szwajcaria, Norwegia, Japonia, Luksemburg, USA.
- C) Niemcy, Egipt, Iran, USA, Kanada.
- D) Chiny, Rosja, Francja, USA, Wielka Brytania.
- E) Polska, Francja, USA, Wielka Brytania, Kanada.

39. NAFTA to organizacja międzynarodowa, która

- A) tworzy strefę wolnego handlu pomiędzy USA, Kanadą i Meksykiem.
- B) kontroluje wydobywanie i eksport ropy naftowej między innymi z Arabii Saudyjskiej.
- C) dba o likwidację głodu na świecie.
- D) współpracuje w zakresie ochrony środowiska oraz dziedzictwa kultury i sztuki.
- E) współpracuje wojskowo w celu szerzenia bezpieczeństwa światowego.

40. Które z wymienionych terytoriów jest uznane za niepodległe państwo w myśl prawa międzynarodowego?

- A) Palestyna.
- B) Cypr Północy.
- C) Sudan Południowy.
- D) Sahara Zachodnia
- E) Kurdystan.

1*	Miejsce egzaminu	
2*	Numer kandydata	
3*	Kierunek studiów	
4	Liczba uzyskanych punktów	/100

*** wypełnia kandydat**

T E S T Z G E O G R A F I I

Test rekrutacyjny dla kandydatów na studia w Polsce

Karta odpowiedzi

Wersja*	
----------------	--

2012 rok

numer pytania	prawidłowa odpowieź				liczba punktów	numer pytania	prawidłowa odpowieź					liczba punktów
	A	B	C	D			A	B	C	D	E	
1						21						
2						22						
3						23						
4						24						
5						25						
6						26						
7						27						
8						28						
9						29						
10						30						
11						31						
12						32						
13						33						
14						34						
15						35						
16						36						
17						37						
18						38						
19						39						
20						40						

Maksymalna liczba punktów - 100
 pytania od 1 do 20 – 2 punkty
 pytania od 21 do 40 – 3 punkty